

अनुक्रमांक .....

मुद्रित पृष्ठों की संख्या : 16+2 मानचित्र

नाम .....

932

825 (BY)

2022

सामाजिक विज्ञान

समय : तीन घण्टे 15 मिनट ]

[ पूर्णांक : 70

सामान्य निर्देश :

(i) प्रारम्भ के 15 मिनट परीक्षार्थियों को प्रश्न-पत्र पढ़ने के लिए निर्धारित हैं।

खण्ड-क

( बहुविकल्पीय प्रश्न )

निर्देश : निम्नलिखित विकल्पों में से सही उत्तर चुनकर अपनी उत्तर-पुस्तिका में लिखिए।

1. फ्रांस की क्रान्ति कब हुई थी? 1  
(क) 1688 (ख) 1789 (ग) 1914 (घ) 1939.
2. भारत में शिक्षक दिवस कब मनाया जाता है? 1  
(क) 10 दिसम्बर (ख) 14 नवम्बर (ग) 5 सितम्बर (घ) 15 अगस्त।
3. भारत में 'राष्ट्रपिता' कह कर किसको सम्बोधित किया जाता है? 1  
(क) महात्मा गाँधी (ख) जवाहर लाल नेहरू (ग) सुभाषचन्द्र बोस (घ) गोपाल कृष्ण गोखले।
4. संयुक्त राष्ट्र संघ का मुख्यालय कहाँ पर है? 1  
(क) जेनेवा (ख) न्यूयार्क (ग) द हेग (घ) इनमें से कोई नहीं।
5. भारतीय राष्ट्रीय कांग्रेस की स्थापना कब हुई थी? 1  
(क) 1885 (ख) 1904 (ग) 1857 (घ) 1855.
6. लिखित संविधान भारत में कब लागू हुआ? 1  
(क) 15 अगस्त (ख) 14 अगस्त (ग) 10 दिसम्बर (घ) 26 जनवरी।

( अति लघु उत्तरीय प्रश्न )

7. भारत के किन्हीं दो पड़ोसी देशों के नाम लिखिए। 1+1
8. भारतीय विदेश नीति के कोई दो सिद्धान्त बताइए। 1+1
9. संयुक्त राष्ट्र संघ की सुरक्षा परिषद के दो स्थायी सदस्य देशों के नाम लिखिए। 1+1

( लघु उत्तरीय प्रश्न )

10. भारत छोड़ो आन्दोलन के किन्हीं तीन कारणों का उल्लेख कीजिए। 1+1+1

अथवा

11. भारत में लोकतंत्र की सफलता के लिए आवश्यक किन्हीं तीन दशाओं का उल्लेख कीजिए। 1+1+  
असहयोग आन्दोलन के मुख्य कारण क्या थे? 1+1+

अथवा

प्रथम विश्वयुद्ध के किन्हीं तीन परिणामों का उल्लेख कीजिए। 1+1+

( दीर्घ उत्तरीय प्रश्न )

12. यूरोप में राष्ट्रवाद के विकास में संस्कृति के योगदान को दर्शाने के लिए तीन उदाहरण दें। 2+2+

अथवा

13. जर्मनी के एकीकरण की प्रक्रिया के बारे में एक संक्षिप्त लेख लिखिए। 6  
लोकतांत्रिक शासन की किन्हीं दो चुनौतियों का उल्लेख कीजिए। 3+3

अथवा

भारतीय लोकतंत्र में राजनीतिक दलों की भूमिका का वर्णन कीजिए। 6

( मानचित्र सम्बन्धी प्रश्न )

निर्देश : निम्नलिखित स्थानों को भारत के दिये गये रेखा मानचित्र में  $\odot$  चिह्न द्वारा नाम सहित दर्शाइए। सही नाम तथा सही अंकन के लिए  $\frac{1}{2}$ ,  $\frac{1}{2}$  अंक निर्धारित हैं :

14. (i) वह स्थान जहाँ भारतीय राष्ट्रीय कांग्रेस का प्रथम अधिवेशन हुआ था।  $\frac{1}{2} + \frac{1}{2}$   
(ii) वह स्थान जहाँ सितम्बर, 1920 में भारतीय राष्ट्रीय कांग्रेस का अधिवेशन हुआ।  $\frac{1}{2} + \frac{1}{2}$   
(iii) वह स्थान जहाँ 1927 में भारतीय राष्ट्रीय कांग्रेस का अधिवेशन हुआ।  $\frac{1}{2} + \frac{1}{2}$   
(iv) वह स्थान जहाँ आनन्द भवन स्थित है।  $\frac{1}{2} + \frac{1}{2}$   
(v) वह स्थान जहाँ प्रसिद्ध स्वर्ण मन्दिर स्थित है।  $\frac{1}{2} + \frac{1}{2}$

( केवल दृष्टिबाधित परीक्षार्थियों के लिये मानचित्र-कार्य के विकल्प के रूप में )

निर्देश : इन प्रश्नों के उत्तर अपनी उत्तर-पुस्तिका में लिखिए। मानचित्र का प्रयोग न कीजिए।

14. (i) भारतीय राष्ट्रीय कांग्रेस का प्रथम अधिवेशन कहाँ हुआ था? 1  
(ii) सितम्बर, 1920 में भारतीय राष्ट्रीय कांग्रेस का अधिवेशन कहाँ हुआ था? 1  
(iii) 1927 में भारतीय राष्ट्रीय कांग्रेस का अधिवेशन कहाँ हुआ था? 1  
(iv) आनन्द भवन कहाँ स्थित है? 1  
(v) प्रसिद्ध स्वर्ण मन्दिर कहाँ स्थित है? 1

खण्ड-ख

( बहुविकल्पीय प्रश्न )

निर्देश : निम्नलिखित विकल्पों में से सही उत्तर चुनकर अपनी उत्तर-पुस्तिका में लिखिए।

15. निम्न में से कौन-सी रोपण फसल है? 1  
(क) गेहूँ (ख) चना (ग) गन्ना (घ) मूँगफली।
16. निम्न में से कौन-सा संसाधन पुनःचक्रीय है? 1  
(क) लोहा (ख) पवन ऊर्जा (ग) ज्वारीय ऊर्जा (घ) पशुधन।
17. कोरबा प्रसिद्ध है— 1  
(क) प्राकृतिक गैस के लिए (ख) कोयला के लिए  
(ग) सौर ऊर्जा के लिए (घ) बॉक्साइट के लिए।
18. निम्न में से कौन-सी रेशेदार फसल है? 1  
(क) कपास (ख) जूट (ग) प्राकृतिक रेशम (घ) इनमें से सभी।
19. निम्न पड़ोसी देशों में से मानव विकास के लिहाज से किस देश की स्थिति भारत से बेहतर है? 1  
(क) बांग्लादेश (ख) श्रीलंका (ग) नेपाल (घ) पाकिस्तान।

20. एक वस्तु का अधिकांशतः प्राकृतिक प्रक्रिया से उत्पादन सम्मिलित है — 1
- (क) प्राथमिक क्षेत्रक में (ख) द्वितीयक क्षेत्रक में
- (ग) तृतीयक क्षेत्रक में (घ) सूचना प्रौद्योगिकी में।

( अति लघु उत्तरीय प्रश्न )

21. अपुनर्चक्रीय प्राकृतिक संसाधन किसे कहते हैं? कोई दो उदाहरण दीजिए। 1 + 1/2 + 1/2
22. अर्थव्यवस्था के असंगठित क्षेत्र के श्रमिकों की कोई दो समस्याएँ लिखिए।
23. अर्थव्यवस्था का कौन-सा क्षेत्रक लोगों को सर्वाधिक रोजगार प्रदान करता है? 2

( लघु उत्तरीय प्रश्न )

24. अर्थव्यवस्था के तृतीयक क्षेत्र से आप क्या समझते हैं? उदाहरण सहित बताइए। 1 + 1/2 + 1/2

अथवा

गन्ना के उत्पादन के लिए अनुकूल भौगोलिक दशाएँ बताइए। 3

25. ऊर्जा के परम्परागत स्रोत किसे कहते हैं? उदाहरण सहित बताइए। 1 1/2 + 1 1/2

अथवा

विकास की पारम्परिक अवधारणा से आप क्या समझते हैं? 3

( दीर्घ उत्तरीय प्रश्न )

26. प्राकृतिक संसाधन क्या हैं? इनके संरक्षण की आवश्यकता क्यों है? 3 + 3

अथवा

भारत में कृषि के महत्व पर एक संक्षिप्त टिप्पणी लिखिए। 6






27. वैश्वीकरण किसे कहते हैं? वैश्वीकरण को सम्भव बनाने वाले कारक बताइए। 2 + 4

अथवा

उपभोक्ता के अधिकारों पर एक निबंध लिखिए। 6

( मानचित्र कार्य )

निर्देश : दिये गये भारत के मानचित्र में निम्नलिखित को दर्शाइए :

28. (i) गोदावरी नदी  चिह्न द्वारा नाम सहित। 1/2 + 1/2
- (ii) नागार्जुन सागर बाँध  चिह्न द्वारा नाम सहित। 1/2 + 1/2
- (iii) दक्षिणी भारत में कॉफी उत्पादक क्षेत्र  चिह्न द्वारा। 1/2 + 1/2
- (iv) भारत के किसी एक जूट उत्पादक क्षेत्र  चिह्न द्वारा। 1/2 + 1/2
- (v) कोच्चि बन्दरगाह  चिह्न द्वारा नाम सहित। 1/2 + 1/2

( केवल दृष्टिबाधित परीक्षार्थियों के लिये मानचित्र कार्य के विकल्प के रूप में )

निर्देश : निम्नलिखित प्रश्नों के उत्तर अपनी उत्तर-पुस्तिका में लिखिए। मानचित्र का प्रयोग न कीजिए।

28. (i) गोदावरी नदी देश के किस भाग में बहती है? 1
- (ii) नागार्जुन सागर बाँध किस नदी में बना है? 1
- (iii) दक्षिण भारत में कहवा (कॉफी) उत्पादक किसी एक राज्य का नाम लिखिए। 1
- (iv) भारत में जूट उत्पादक किसी एक राज्य का नाम लिखिए। 1
- (v) कोच्चि बन्दरगाह किस राज्य में स्थित है? 1