

नोट - सभी प्रश्नों को हल करना अनिवार्य है।

सांख्यिकतात्मक प्रश्न (O.M.R. Sheet पर उत्तर दें) 20 अंक

1. इटली का एकीकरण किसके नेतृत्व में किया गया ?
(अ) ज्युरोमे गैरीवाल्डी (ब) ऑटोवान बिस्मार्क
(स) नेपोलियन (द) विलियम प्रथम
2. इनमें से किस वर्ष जर्मनी को एक स्वतन्त्र राज्य घोषित किया गया ?
(अ) 1871 ई० (ख) 1872 ई० (ग) 1876 ई० (घ) 1880 ई०
3. सविनय अवज्ञा आन्दोलन कब चलाया गया ?
(अ) 1920 (ब) 1927 (स) 1930 (द) 1935
4. पर्वतों पर हिमनद का साधन है ?
(अ) पवन (ब) हिमनद (स) जल (द) पशुचारण
5. सुन्दरवन राष्ट्रीय पार्क किस राज्य में है ?
(अ) असम (ब) ओडिशा (स) पश्चिम बंगाल (द) मध्य प्रदेश
6. सलाल बांध किस नदी पर बना है ?
(अ) महानदी (ब) चिनाब (स) सतलुज (द) कृष्णा
7. भारत में पंचायती राज्य की स्थापना कब हुई थी ?
(अ) 1980 में (ब) 1990 में (स) 1992 में (द) 2004 में
8. निम्नलिखित में से कौन सा संघीय राज्य नहीं है ?
(अ) उत्तर प्रदेश (ब) मध्य प्रदेश (स) दिल्ली (द) बिहार
9. धर्म की सामाजिक समुदाय का काम करता है, यह मान्यता किस पर आधारित है ?
(अ) धर्म पर (ब) सम्प्रदाय पर (स) समुदाय पर (द) संप्रदायिकता पर
10. निम्न में से किस राज्य की प्रति व्यक्ति आय सर्वाधिक है ?
(अ) हरियाणा (ब) बिहार (स) राजस्थान (द) मेघालय
11. निम्नलिखित में से किस वर्ष महात्मा गांधी राष्ट्रीय ग्रामीण रोजगार गारंटी ऐक्ट (योजना) चलाई गई।
(क) 2008 (ख) 2010 (ग) 2005 (घ) 2000

(2)

13. यंग इटली सोसायटी का संस्थापक कौन था ?
(अ) गैरी वॉल्डी (ब) विस्मार्क (स) कावूर (द) मेजिनी
14. महामंदी का प्रारम्भ किस वर्ष हुआ ?
(अ) 1919 ई0 में (ब) 1924 ई0 में (स) 1929 ई0 में (द) 1934 ई0 में
15. भारत में सबसे पहले वन एवं वन्य जीव संरक्षण अधिनियम किस वर्ष लागू किया गया ?
(अ) 1970 (ब) 1972 (स) 1983 (द) 1990
116. आधुनिक भारत में अधिकांश नदियों के बेसिनों में किसका निर्माण किया गया है ?
(अ) कुओं (ब) तालाबों (स) बांधों (द) नलकूपों
17. निम्नलिखित में से किसमें महिलाओं के लिये आरक्षण सुनिश्चित है ?
(अ) विधानसभाओं में (ब) लोकसभा में (स) पंचायती राज संस्थाओं में (द) राजस्थान में
18. समवर्ती सूची में संबंधित विषय नहीं है ?
(अ) वन (ब) विदेशी मामले (स) शिक्षा (द) उत्तराधिकार
19. मानव विकास सूचकांक 2021 में भारत का स्थान है ?
(अ) 131 वां (ब) 30 वां (स) 129 वां (द) 128 वां
20. भारत में सबसे अधिक शिशु मृत्यु दर वाले दो राज्य हैं ?
(अ) ओडिशा और मध्य प्रदेश (ब) बिहार और गोवा
(स) तेलंगाना और पश्चिम बंगाल (द) सिक्किम और असम

लघु उत्तरीय प्रश्न

20 अंक

1. फ्रांस की क्रांति कब हुई थी ? इसका मुख्य कारण क्या था ?
2. सविनय अवज्ञा आन्दोलन में देश के विभिन्न वर्गों और समूहों ने क्यों भाग लिया ?
3. जल संरक्षण एवं प्रबंधन क्यों जरूरी है ?
4. संघ सूची तथा राज्य सूची के महत्वपूर्ण विषय स्पष्ट कीजिये।
5. शिशु मृत्यु दर रोकने के कोई तीन उपाय बताइये।

दीर्घ उत्तरीय प्रश्न-

20 अंक






1. भारत छोड़ो आन्दोलन का संक्षिप्त विवरण दीजिये।

(3)

2. इटली के एकीकरण में आने वाली प्रमुख बाधाओं का वर्णन कीजिए।
3. भारत में भू उपयोग की प्रारूप की प्रक्रिया को समझाइये।
4. भारत में विकेन्द्रीकरण का स्वरूप क्या है?
5. अर्थव्यवस्था के तृतीयक क्षेत्रक से आप क्या समझते हैं?

मानचित्र कार्य

1. जलियावाला बाग हत्याकाण्ड कब हुआ था और कहाँ हुआ था दर्शाइये। 10
2. चौरी काण्ड कब हुआ था और कहाँ हुआ था?
3. वह स्थान, जहाँ सितम्बर 1920 में कांग्रेस का अधिवेशन हुआ था।
4. वह स्थान जहाँ 1927 में कांग्रेस का अधिवेशन हुआ।
5. वह स्थान जहाँ सूती मित्र श्रमिकों का सत्याग्रह हुआ?

- (1) भारत का कोई एक पत्तन (बन्दरगाह) जो पश्चिमी तट पर स्थित है  चिन्ह द्वारा नाम सहित।
- (2) गुजरात की राजधानी नगर  चिन्ह द्वारा नाम सहित।
- (3) सलाल बांध  चिन्ह द्वारा नाम सहित।
- (4) तापीय ऊर्जा का कोई एक क्षेत्र  चिन्ह द्वारा नाम सहित।
- (5) महानदी  चिन्ह द्वारा नाम सहित।