

अनुक्रमांक

नाम

932

मुद्रित पृष्ठों की संख्या : 7

825(BAT)

2025

सामाजिक विज्ञान

केवल प्रश्न-पत्र

समय : तीन घण्टे 15 मिनट

पूर्णांक : 70

नोट : प्रारम्भ के 15 मिनट परीक्षार्थियों को प्रश्नपत्र पढ़ने के लिए निर्धारित हैं।

निर्देश :

- i) सभी प्रश्न अनिवार्य हैं।
- ii) इस प्रश्नपत्र के दो खण्ड, खण्ड अ तथा खण्ड ब हैं।
- iii) खण्ड अ में 1 अंक के 20 बहुविकल्पीय प्रश्न हैं जिनके उत्तर ओ० एम० आर० उत्तर पत्रक पर नीले अथवा काले बाल प्वाइंट कलम से सही विकल्प वाले गोले को पूर्ण रूप से काला कर चिह्नित करें।
- iv) खण्ड अ के प्रत्येक प्रश्न का निर्देश पढ़कर केवल प्रदत्त ओ० एम० आर० उत्तर पत्रक पर ही उत्तर दें। ओ० एम० आर० उत्तर पत्रक पर उत्तर देने के पश्चात उसे नहीं काटें तथा इरेजर अथवा ह्वाइटनर का प्रयोग न करें।
- v) प्रश्न के अंक उसके सम्मुख अंकित हैं।
- vi) खण्ड ब में 50 अंक के वर्णनात्मक प्रश्न हैं। इस खण्ड में वर्णनात्मक-1, वर्णनात्मक-II तथा मानचित्र सम्बन्धी दो प्रश्न हैं।
- vii) खण्ड - ब में सभी प्रश्नों के उत्तर एक साथ ही करें।
- viii) प्रथम प्रश्न से आरम्भ कीजिए तथा अन्तिम प्रश्न तक करते जाइए। जो प्रश्न न आता हो उस पर समय नष्ट न कोजिए।
- ix) दिशाएँ गए मानचित्रों को उत्तर-पुस्तिका के साथ मजबूती से संलग्न करना आवश्यक है।

- x) दृष्टिबाधित परीक्षार्थियों के लिए मानचित्र कार्य के स्थान पर अलग से प्रश्न संख्या 9 (A) तथा 9 (B) लिखने के लिए दिए गये हैं।

खण्ड - अ

(बहुविकल्पीय प्रश्न)

निर्देश: नीचे दिए गए प्रश्नों के प्रत्येक प्रश्न के चार विकल्प दिए गए हैं। सही विकल्प चुनकर उसे OMR उत्तर पत्रक पर चिह्नित करें :

1. ऑटो वॉन बिस्मार्क का संबंध किस देश से है? 1
(A) इटली (B) जर्मनी
(C) फ्रांस (D) ब्रिटेन
2. जलियाँवाला बाग की घटना कब हुई? 1
(A) 8 अप्रैल, 1919 (B) 10 अप्रैल, 1919
(C) 13 अप्रैल, 1919 (D) 25 अप्रैल, 1919
3. अन्तर्राष्ट्रीय मुद्रा कोष (IMF) की स्थापना कब हुई थी? 1
(A) 1940 (B) 1942
(C) 1945 (D) 1944
4. फ्रांस की क्रांति कब हुई थी? 1
(A) 1688 में (B) 1789 में
(C) 1914 में (D) 1939 में
5. समाचार-पत्र "केसरी" का प्रकाशन निम्नलिखित में से किसने किया था? 1
(A) महात्मा गाँधी (B) बाल गंगाधर तिलक
(C) मदन मोहन मालवीय (D) सुभाष चन्द्र बोस
6. निम्नलिखित में से किस देश का विभाजन धर्म तथा जाति के आधार पर हुआ था? 1
(A) बेल्जियम (B) भारत
(C) यूगोस्लाविया (D) नीदरलैण्ड
7. "हिन्दी" किस प्रकार की भाषा है? 1
(A) क्षेत्रीय भाषा (B) अल्पसंख्यकों की भाषा
(C) राज भाषा (D) उपर्युक्त में से कोई नहीं

8. महात्मा गाँधी का विचार था 1
(A) धर्म को कभी भी राजनीति से अलग नहीं किया जा सकता।
(B) धर्म का राजनीति से कोई संबंध नहीं है।
(C) धर्म और राजनीति अलग-अलग हैं।
(D) उपर्युक्त में से कोई नहीं
9. भारतीय कम्यूनिस्ट पार्टी की मार्क्सवादी विचारधारा की मुख्य विशेषता/विशेषताएँ कौन-सी है/हैं? 1
(A) मार्क्सवाद लेनिनवाद में विश्वास
(B) धर्मनिरपेक्षता और लोकतंत्र की समर्थक
(C) साम्राज्यवाद और साम्प्रदायिकता की विरोधी
(D) उपर्युक्त सभी
10. निम्नलिखित में से कौन-सा लोकतंत्र से संबंधित है? 1
(A) पारदर्शी शासन (B) उत्तरदायी शासन
(C) वैध शासन (D) उपर्युक्त सभी
11. निम्नलिखित में से किसे हरा सोना कहा जाता है? 1
(A) प्राकृतिक वनस्पति को (B) घास के मैदानों को
(C) हरे पेड़ों को (D) सघन झाड़ियों को
12. जलमण्डल का कितना प्रतिशत भाग समुद्री जल के रूप में उपलब्ध है? 1
(A) 95% (B) 96%
(C) 97.5% (D) 98%
13. लौह-अयस्क किस प्रकार का संसाधन है? 1
(A) नवीकरणीय (B) जैव
(C) प्रवाह (D) अनवीकरणीय
14. निम्नलिखित में से कौन-सा राज्य हजीरा विजयपुर जगदीशपुर पाइपलाइन से नहीं जुड़ा है? 1
(A) मध्य प्रदेश (B) महाराष्ट्र
(C) गुजरात (D) उत्तर प्रदेश

15. निम्नलिखित में से कौन-सा उद्योग चूना पत्थर को कच्चे माल के रूप में प्रयुक्त करता है? 1
- (A) ऐलुमिनियम (B) सीमेंट
(C) प्लास्टिक (D) मोटरगाड़ी
16. सामान्यतः किसी देश का विकास किस आधार पर निर्धारित किया जा सकता है? 1
- (A) प्रति व्यक्ति आय (B) औसत साक्षरता दर
(C) लोगों की स्वास्थ्य स्थिति (D) उपर्युक्त सभी
17. सार्वजनिक और निजी क्षेत्रक किस आधार पर विभाजित हैं? 1
- (A) रोजगार की शर्तें (B) आर्थिक गतिविधियों का स्वरूप
(C) उद्यमों का स्वामित्व (D) उद्यम में नियोजित श्रमिकों की संख्या
18. सेवाओं को किस क्रियाकलाप क्षेत्रक के अंतर्गत रखा जाता है? 1
- (A) प्राथमिक (B) द्वितीयक
(C) तृतीयक (D) सूचना प्रौद्योगिकी
19. राष्ट्रीय उपभोक्ता अधिकार दिवस कब मनाया जाता है? 1
- (A) 5 अप्रैल (B) 5 अक्टूबर
(C) 24 नवंबर (D) 24 दिसंबर
20. उपभोक्ता सुरक्षा अधिनियम कब बना था? 1
- (A) 1986 (B) 1995
(C) 1999 (D) 1896

खण्ड ब

(वर्णनात्मक - 1)

(निम्न प्रश्नों के उत्तर प्रत्येक लगभग 80 शब्दों में दीजिए।)

21. राष्ट्र-राज्य के उदय पर संक्षिप्त टिप्पणी लिखिए। 4
- अथवा
- खिलाफत आंदोलन कब शुरू हुआ ? संक्षेप में स्पष्ट कीजिए। 4
22. संघवाद की किन्हीं चार विशेषताओं का वर्णन कीजिए। 1+1+1+1
- अथवा

- राजनीति में जाति के नकारात्मक पहलू के महत्त्वपूर्ण बिंदुओं को स्पष्ट कीजिए। 4
23. वनों की हानि से क्या आशय है? वनों की हानि से होने वाले किन्हीं तीन प्रभावों का उल्लेख कीजिए। 1+3

अथवा

- सड़क परिवहन के सापेक्षिक लाभों की विवेचना कीजिए। 4
24. उपभोक्ता जागरूकता हेतु कोई चार उपाय सुझाइए। 4

अथवा

संगठित क्षेत्रक एवं असंगठित क्षेत्रक के बीच भेद स्पष्ट कीजिए। 2 + 2

(वर्णनात्मक - II)

(निम्न प्रश्नों के उत्तर प्रत्येक लगभग 150 शब्दों में दीजिए।)

25. जर्मनी के एकीकरण की प्रक्रिया के बारे में संक्षिप्त लेख लिखिए। 6

अथवा

आदि-औद्योगीकरण व्यवस्था की विशेषताएँ लिखिए। 6

26. बेल्जियम में राजनैतिक प्रणाली विश्व के अन्य देशों से अलग कैसे है? संक्षेप में व्याख्या कीजिए। 6

अथवा

"लोकतांत्रिक शासन व्यवस्था अन्य शासन व्यवस्थाओं से बेहतर है।" व्याख्या कीजिए। 2+4

27. मानव विकास सूचकांक को परिभाषित कीजिए। मानव विकास के घटकों का वर्णन कीजिए। 2+4

अथवा

भारत में वैश्वीकरण के प्रभावों की विवेचना कीजिए। 2+2+2


28. भू-संसाधन से क्या तात्पर्य है? भारत के भू-उपयोग में आवश्यक परिवर्तनों हेतु कोई चार उपाय सुझाइए। 2+4

अथवा

चावल की खेती हेतु उपयुक्त भौगोलिक दशाओं की विवेचना कीजिए तथा भारत में किन्हीं तीन प्रमुख चावल उत्पादन क्षेत्रों का उल्लेख कीजिए। 3+3

(मानचित्र सम्बन्धी प्रश्न)

निर्देश: प्रश्न संख्या 9(A) तथा 9 (B) मानचित्र से संबंधित हैं।






29(A). निम्नलिखित स्थानों को भारत के दिये गये रेखा मानचित्र  चिह्न द्वारा नाम सहित

दर्शाइए। सही नाम तथा स्थान अंकन के लिए, $\frac{1}{2} + \frac{1}{2}$ अंक निर्धारित हैं :

- वह स्थान जहाँ 1905 में कांग्रेस का अधिवेशन हुआ।
- वह स्थान जहाँ गाँधीजी ने किसान सत्याग्रह का बिहार में नेतृत्व किया।
- वह स्थान जहाँ असहयोग आंदोलन का कार्यक्रम स्वीकार किया गया।
- वह स्थान जहाँ पर चन्द्रशेखर आजाद शहीद हुए थे।
- वह स्थान जहाँ प्रसिद्ध स्वर्ण मंदिर स्थित है।

निर्देश: दिये गये भारत के रेखा मानचित्र में निम्नलिखित स्थानों को चिह्न द्वारा नाम सहित

दर्शाइए :

- चाय उत्पादक कोई एक क्षेत्र  चिह्न द्वारा नाम सहित ।
- छत्तीसगढ़ का राजधानी नगर  चिह्न द्वारा नाम सहित
- दक्षिण भारत की एक प्रमुख नदी  चिह्न द्वारा नाम सहित ।
- नर्मदा नदी पर बना एक बाँध  चिह्न द्वारा नाम सहित ।
- उत्तर प्रदेश का एक दसलाखी नगर  चिह्न द्वारा नाम सहित ।

(केवल दृष्टिबाधित परीक्षार्थियों के लिये मानचित्र कार्य के विकल्प के रूप में)

निर्देश: निम्नलिखित प्रश्नों के उत्तर अपनी उत्तर-पुस्तिका में लिखिए। मानचित्र का प्रयोग न कीजिए।

- 1905 में कांग्रेस का अधिवेशन कहाँ हुआ था? 1
- बिहार में किस स्थान पर गाँधीजी ने किसान सत्याग्रह का नेतृत्व किया था? 1
- असहयोग आंदोलन का कार्यक्रम किस स्थान पर स्वीकार किया गया था? 1
- चन्द्रशेखर आजाद किस स्थान पर शहीद हुए थे? 1
- स्वर्ण मंदिर किस स्थान पर स्थित है? 1

30). निर्देश: निम्नलिखित प्रश्नों के उत्तर अपनी उत्तर पुस्तिका में लिखिए। मानचित्र का प्रयोग न कीजिए।

- चाय उत्पादक किसी एक क्षेत्र का नाम । 1

- | | | |
|------|--|---|
| ii) | छत्तीसगढ़ के राजधानी नगर का नाम । | 1 |
| iii) | दक्षिण भारत की एक प्रमुख नदी का नाम । | 1 |
| iv) | नर्मदा नदी पर बना एक बाँध का नाम । | 1 |
| v) | उत्तर प्रदेश का एक दसलाखी नगर का नाम । | 1 |

modelpaper.info